

# Was verstehst du unter Armut?

**DEFINITION UND MESSUNG**




Die 24 Kärtchen stellen die gesamte Bevölkerung Österreichs dar. Ein Kärtchen entspricht ca. **375.000 Menschen**.

Versuche einzuschätzen, wie viele Menschen in Österreich von Armut betroffen sind und ordne die Kärtchen den beiden Gruppen „**armutsbetroffen**“ und „**nicht armutsbetroffen**“ zu.

Du hast eine bestimmte Anzahl an Kärtchen der Gruppe „**armutsbetroffen**“ zugeordnet.

Beschreibe unter **Aufgabe 1** (Arbeitsblatt M3), wie du dir Menschen in Österreich vorstellst, die von Armut betroffen sind. Gehe auch auf das Bild ein, das du bei der Zuordnung der Kärtchen vor Augen hattest.

# Armut- und ausgrenzungsgefährdet ist, wer ...

<b>1</b>	<b>materiell und sozial erheblich benachteiligt</b> ist oder	7 von 13 Grundbedürfnissen sind nicht leistbar, darunter z. B.:	
<b>2</b>	ein <b>geringes Haushaltseinkommen</b> relativ zum Median der Bevölkerung hat oder	Einkommen unterhalb der Armutgefährdungsschwelle nach Haushaltsgröße, z. B.:	 < 1.392 €      < 2.923 €
<b>3</b>	<b>keine oder eine sehr niedrige Erwerbsintensität</b> im gesamten Haushalt aufweist.	Erwerbsintensität im Jahresdurchschnitt unter 20 % einer 35h-Beschäftigung, z. B.:	 < 7h / Woche

Armut- und ausgrenzungsgefährdet sind ...

in Österreich


**17,5 Prozent** der Personen in Privathaushalten,

d. h. circa **1.571.000 Menschen.**

Stand 2022

# Armut- und ausgrenzungsgefährdet sind ...

**17,5 Prozent** der Personen in Privathaushalten, ~ **1.571.000 Menschen**.



Stand 2022