




START
↓

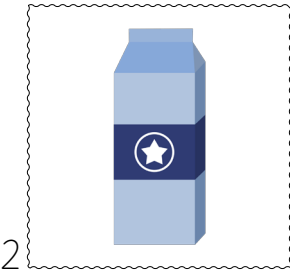
Wie viel € kostet
welches Produkt?



1

Brot bio
1kg

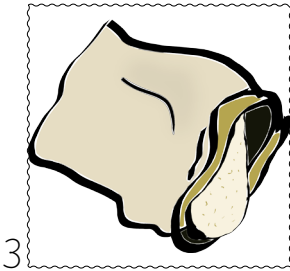
€ 1,29



2

Milch
1l


€ 3,49



3

Mehl
1kg

€ 1,59



4

Ananas frisch
1 Stück

€ 3,99



5

Schokolade
100g

€ 1,19

ZIEL
→

MEIN GELD Volksschule



auf dieser Seite alle Bilder: pixabay.com



START
↓

Wie viel € kostet
welches Produkt?



1

Basketball

€ 89,00



2

Fahrrad

€ 200,00



3

Sonnenkappe

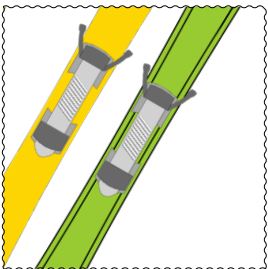
€ 8,00



4

Winterjacke

€ 250,00



5

Markenski mit
Bindung

€ 30,00

ZIEL
→


MEIN GELD Volksschule



auf dieser Seite alle Bilder: pixabay.com



START
↓



1


Um welchen Geldschein bzw. um welche Münze handelt es sich?



MEIN GELD Volksschule



2



3



4



5



ZIEL →



auf dieser Seite alle Bilder: pixabay.com



START
↓



Wie endet das Sprichwort?

1 Geld regiert ...

... ist das Geld.
(Sophokles)

2 Der ärgste Fluch des Menschen ...

... die Welt.

3 Ohne Moos ...

... sind nicht die, die man für Geld bekommt.
(Einstein)

4 Die besten Dinge im Leben ...

... nichts los.

5 Billiges Geld...

... verleitet zu teuren Fehlern.

ZIEL →
○

MEIN GELD Volksschule



auf dieser Seite alle Bilder: pixabay.com




START
↓



1 KANADA

In welchem Land wird mit welchem Geld bezahlt?

Türkische Lira



2 JAPAN

Kanadischer Dollar



3 ÖSTERREICH

Rubel



4 RUSSLAND

Yen



5 TÜRKEI

Euro

ZIEL →


MEIN GELD Volksschule



auf dieser Seite alle Bilder: pixabay.com



START
↓



1

Kennst du die Sicherheitsmerkmale des € 10,00-Scheines?

Smaragd-
zahl



2

Fühlbare
Linien




3

Hologramm
(Vorderseite)



4

Sicherheits-
faden
(beim Halten gegen
das Licht)



5

Wasser-
zeichen
(beim Halten gegen
das Licht)

ZIEL →

MEIN GELD Volksschule



auf dieser Seite alle Bilder: pixabay.com